

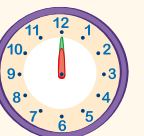







Nom : .....

Date : .....

Écris les heures sous chaque horloge.



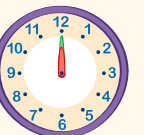





 5 h	 .....	 .....	 .....	 .....	 .....	 .....	 .....
--	---	---	--	---	---	---	---



Nom : .....

Date : .....

Écris les heures sous chaque horloge.


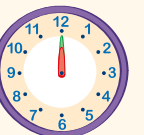




 5 h	 .....	 .....	 .....	 .....	 .....	 .....	 .....
---	--	--	---	--	--	--	--



Nom : .....

Date : .....

Écris les heures sous chaque horloge.

 5 h	 .....	 .....	 .....	 .....	 .....	 .....	 .....
--	---	---	--	---	---	---	---