

Nom : .....

Date : .....

## 1 CHERCHONS

Sacha a 27 cubes. Rose en a 15.  
Peuvent-ils faire une nouvelle  
tour de 10 en rassemblant  
leurs cubes ?


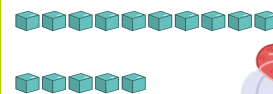
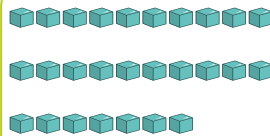
**Coche** la bonne réponse.

oui  non

Combien restera-t-il de cubes tout seuls ?

**Complète.**

Il restera ..... cubes tout seuls.



Nom : .....

Date : .....

## 1 CHERCHONS

Sacha a 27 cubes. Rose en a 15.  
Peuvent-ils faire une nouvelle  
tour de 10 en rassemblant  
leurs cubes ?

**Coche** la bonne réponse.

oui  non

Combien restera-t-il de cubes tout seuls ?

**Complète.**

Il restera ..... cubes tout seuls.

