

Reconnaître des solides : cube, pavé, boule, cône, pyramide


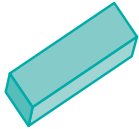

Nom :

Date :

1 CHERCHONS



Relie chaque objet au solide géométrique qui lui correspond.






Nom :

Date :

1 CHERCHONS



Relie chaque objet au solide géométrique qui lui correspond.



Nom :

Date :

1 CHERCHONS



Relie chaque objet au solide géométrique qui lui correspond.

