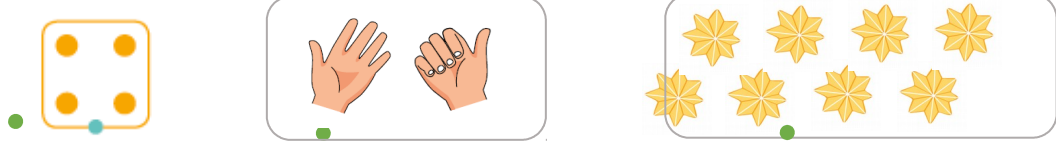


Nom :

Date :

1 Relie.




1	2	3	4	5	6	7	8	9	10
---	---	---	---	---	---	---	---	---	----


2 Dessine 17 billes.
Entoure une dizaine de billes.




3 Dessine ce qui manque.




4 Entoure le plus grand nombre.



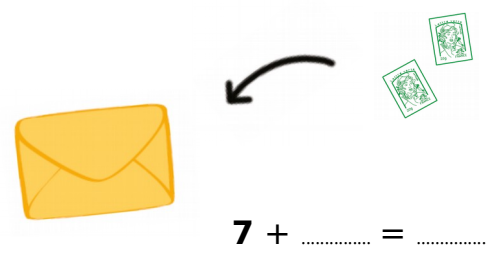
5 Entoure le plus petit nombre.



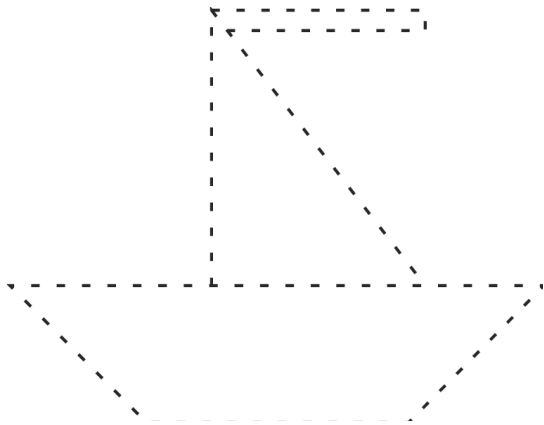
6 Dessine autant de fleurs que de vases.



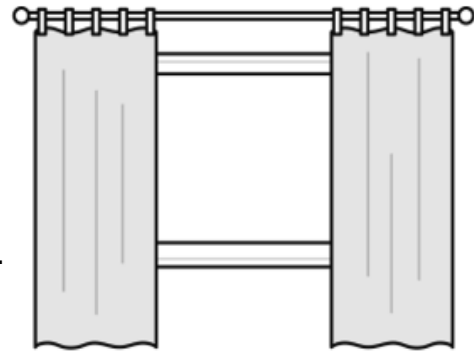
7 Il y a déjà **7** timbres dans l'enveloppe.
Complète.



8 Repasse à la règle.



Dessine une étoile entre les rideaux.



10 Farid veut offrir un bouquet à sa maman. Il a déjà **3** fleurs.



Le fleuriste ajoute **7** fleurs.
Combien y a-t-il de fleurs

12 maintenant dans le bouquet ?

Complète.

Il y a fleurs dans le bouquet.

Mardi, Tony a **2** cartes.




Jeudi, j'ai gagné
6 cartes.
Vendredi, j'en ai
regagné 2.

Combien Tony a-t-il de cartes vendredi ?

Complète.

Vendredi, Tony a cartes.

Entoure les **3** points qui sont alignés.



13 **Réponds** par **V** (ou vrai) ou par **F** (ou faux).

Dans la semaine, il y a 8 jours.

Aujourd'hui, c'est dimanche. Hier, c'était samedi.

Aujourd'hui, c'est dimanche. Demain, ce sera lundi.